


# Limba română



- 1** În povestea lui Ion Creangă, capra avea trei iezi, dar numai unul era harnic și cuminte. Cine era acesta?
- A) iedul cel mic
  - B) iedul mijlociu
  - C) iedul cel mare



- 2** Fiind o mamă grijulie, capra le-a spus ieșilor înainte să plece de acasă:
- A) să nu stea mult afară la joacă
  - B) să închidă ușa cu zăvorul și să nu deschidă nimănui
  - C) să facă baie și să se culce

- 3** Cum a reușit să iasă din cuptorul încins cocoșul din povestea „Punguța cu doi bani”?
- A) A suflat foarte tare.
  - B) A vărsat apa din fântână.
  - C) A strigat după ajutor.



- 4** Ce a pățit ursul păcălit de vulpe din povestea cu același nume?



- A) Ursul a rămas fără coadă.
- B) Vulpea i-a furat peștii.
- C) Ursul a fugit din pădure.

- 5** Fata moșneagului era frumoasă, harnică și sufletistă. Ea a fost răsplătită de cuptorul pe care l-a îngrijit cu:

- A) pâine aburindă




- C) plăcinte rumenite






# Matematică

- 1** Între fiecare dintre cei trei iezi ai caprei este o diferență de vârstă de **3** ani.  
Dacă iedul cel mic are **6** ani, ce vârstă are iedul cel mare?




- A) **9** ani    B) **12** ani    C) **3** ani

- 2** Fata moșneagului vrea să-și cumpere o mătură nouă, în valoare de **4** lei. Ea plătește cu o bancnotă de **10** lei. Ce rest va primi?



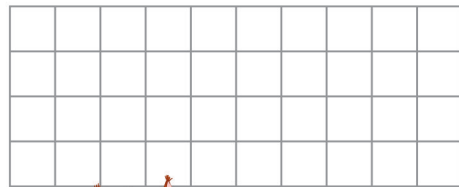
- A) **14** lei  
B) **5** lei  
C) **6** lei

- 3** Găina babei face câte un ou la fiecare **2** zile. Într-o zi, bătrânica a uitat să noteze data pe ou. Ce număr lipsește?




- A) **21**    B) **20**    C) **18**

- 4** Vulpea cea șireată are **2** pui. Ea împarte fiecăruia câte **5** pești, iar **3** îi mănâncă ea. Câți pești a avut vulpea la început?



- A) **8**  
B) **10**  
C) **13**

- 5** Boierul își ține bogățiile într-o ladă de lemn. Ea are formă de:



- A) cub  
B) cuboid  
C) sferă

## Științe



- 1** Capra a invitat la praznic un animal sălbatic al cărui corp este acoperit cu blană. Cine este?



- 2** Moșneagul din poveste merge greu, ajutându-se de un baston. Ce parte a corpului său, cu rol de deplasare, este afectată?

- A) membrele
- B) trunchiul
- C) capul



- 3** Mergând prin pădure, fata babei a auzit o bubuitură puternică. Ea s-a speriat de:

- A) vânt
- B) fulger
- C) tunet

- 4** Pentru a scăpa de furia ursului pe care l-a păcălit, vulpea din poveste s-a ascuns într-o scorbură aflată în:
- A) rădăcina copacului
  - B) tulpina copacului
  - C) coroana copacului



- 5** Matei se află în camera lui. Alege obiectul care funcționează cu ajutorul electricității:

- A) calculatorul
- B) scaunul de birou
- C) skateboardul



Concursul Național AMINTIRI din COPILĂRIE  
An școlar 2018-2019  
Etapa 3 - 17 mai 2019



## FORMULAR de EVALUARE

NUMELE

CLASA

CP  1  2  3  4  A  B  C  D  E  F  G  H

ȘCOALA

LOCALITATEA

## RĂSPUNSURI

### Limba română

	A	B	C
1	<input type="checkbox"/>	<input type="checkbox"/>	<input type="checkbox"/>
2	<input type="checkbox"/>	<input type="checkbox"/>	<input type="checkbox"/>
3	<input type="checkbox"/>	<input type="checkbox"/>	<input type="checkbox"/>
4	<input type="checkbox"/>	<input type="checkbox"/>	<input type="checkbox"/>
5	<input type="checkbox"/>	<input type="checkbox"/>	<input type="checkbox"/>
6	<input type="checkbox"/>	<input type="checkbox"/>	<input type="checkbox"/>
7	<input type="checkbox"/>	<input type="checkbox"/>	<input type="checkbox"/>
8	<input type="checkbox"/>	<input type="checkbox"/>	<input type="checkbox"/>
9	<input type="checkbox"/>	<input type="checkbox"/>	<input type="checkbox"/>
10	<input type="checkbox"/>	<input type="checkbox"/>	<input type="checkbox"/>

### Matematică

	A	B	C
1	<input type="checkbox"/>	<input type="checkbox"/>	<input type="checkbox"/>
2	<input type="checkbox"/>	<input type="checkbox"/>	<input type="checkbox"/>
3	<input type="checkbox"/>	<input type="checkbox"/>	<input type="checkbox"/>
4	<input type="checkbox"/>	<input type="checkbox"/>	<input type="checkbox"/>
5	<input type="checkbox"/>	<input type="checkbox"/>	<input type="checkbox"/>
6	<input type="checkbox"/>	<input type="checkbox"/>	<input type="checkbox"/>
7	<input type="checkbox"/>	<input type="checkbox"/>	<input type="checkbox"/>
8	<input type="checkbox"/>	<input type="checkbox"/>	<input type="checkbox"/>
9	<input type="checkbox"/>	<input type="checkbox"/>	<input type="checkbox"/>
10	<input type="checkbox"/>	<input type="checkbox"/>	<input type="checkbox"/>

### Științe

	A	B	C
1	<input type="checkbox"/>	<input type="checkbox"/>	<input type="checkbox"/>
2	<input type="checkbox"/>	<input type="checkbox"/>	<input type="checkbox"/>
3	<input type="checkbox"/>	<input type="checkbox"/>	<input type="checkbox"/>
4	<input type="checkbox"/>	<input type="checkbox"/>	<input type="checkbox"/>
5	<input type="checkbox"/>	<input type="checkbox"/>	<input type="checkbox"/>
6	<input type="checkbox"/>	<input type="checkbox"/>	<input type="checkbox"/>
7	<input type="checkbox"/>	<input type="checkbox"/>	<input type="checkbox"/>
8	<input type="checkbox"/>	<input type="checkbox"/>	<input type="checkbox"/>
9	<input type="checkbox"/>	<input type="checkbox"/>	<input type="checkbox"/>
10	<input type="checkbox"/>	<input type="checkbox"/>	<input type="checkbox"/>

Concursul Național AMINTIRI din COPILĂRIE  
An școlar 2018-2019  
Etapa 3 - 17 mai 2019

CLASA  CP  1  2  3  4

## RĂSPUNSURI

Limba română			
	A	B	C
1	<input checked="" type="checkbox"/>	<input type="checkbox"/>	<input type="checkbox"/>
2	<input type="checkbox"/>	<input checked="" type="checkbox"/>	<input type="checkbox"/>
3	<input type="checkbox"/>	<input checked="" type="checkbox"/>	<input type="checkbox"/>
4	<input checked="" type="checkbox"/>	<input type="checkbox"/>	<input type="checkbox"/>
5	<input type="checkbox"/>	<input type="checkbox"/>	<input checked="" type="checkbox"/>
6	<input type="checkbox"/>	<input type="checkbox"/>	<input type="checkbox"/>
7	<input type="checkbox"/>	<input type="checkbox"/>	<input type="checkbox"/>
8	<input type="checkbox"/>	<input type="checkbox"/>	<input type="checkbox"/>
9	<input type="checkbox"/>	<input type="checkbox"/>	<input type="checkbox"/>
10	<input type="checkbox"/>	<input type="checkbox"/>	<input type="checkbox"/>

Matematică			
	A	B	C
1	<input type="checkbox"/>	<input checked="" type="checkbox"/>	<input type="checkbox"/>
2	<input type="checkbox"/>	<input type="checkbox"/>	<input checked="" type="checkbox"/>
3	<input checked="" type="checkbox"/>	<input type="checkbox"/>	<input type="checkbox"/>
4	<input type="checkbox"/>	<input type="checkbox"/>	<input checked="" type="checkbox"/>
5	<input type="checkbox"/>	<input checked="" type="checkbox"/>	<input type="checkbox"/>
6	<input type="checkbox"/>	<input type="checkbox"/>	<input type="checkbox"/>
7	<input type="checkbox"/>	<input type="checkbox"/>	<input type="checkbox"/>
8	<input type="checkbox"/>	<input type="checkbox"/>	<input type="checkbox"/>
9	<input type="checkbox"/>	<input type="checkbox"/>	<input type="checkbox"/>
10	<input type="checkbox"/>	<input type="checkbox"/>	<input type="checkbox"/>

Științe			
	A	B	C
1	<input type="checkbox"/>	<input type="checkbox"/>	<input checked="" type="checkbox"/>
2	<input checked="" type="checkbox"/>	<input type="checkbox"/>	<input type="checkbox"/>
3	<input type="checkbox"/>	<input type="checkbox"/>	<input checked="" type="checkbox"/>
4	<input type="checkbox"/>	<input checked="" type="checkbox"/>	<input type="checkbox"/>
5	<input checked="" type="checkbox"/>	<input type="checkbox"/>	<input type="checkbox"/>
6	<input type="checkbox"/>	<input type="checkbox"/>	<input type="checkbox"/>
7	<input type="checkbox"/>	<input type="checkbox"/>	<input type="checkbox"/>
8	<input type="checkbox"/>	<input type="checkbox"/>	<input type="checkbox"/>
9	<input type="checkbox"/>	<input type="checkbox"/>	<input type="checkbox"/>
10	<input type="checkbox"/>	<input type="checkbox"/>	<input type="checkbox"/>

### MODUL de CALCUL al PUNCTAJULUI

Punctaj din Oficiu	40p
Punctaj Subiecte	$15 \times 4p = 60p$
Punctaj Total	100p