


## Limba română



- 1** Boierul ar fi vrut să piară cocoșul din povestea „Punguța cu doi bani” înecat cu:  
A) boi, vaci și viței  
B) jăratec  
C) galbeni



- 6** După ce mama lui l-a prins la scăldat și i-a luat hainele, Nică:  
A) a furat hainele altcuiva  
B) a luat-o la fugă spre casă  
C) s-a întins la soare

- 2** Cățelușa a mușcat-o pe fata babei din cauză că:  
A) a încercat să-i ia salba de la gât  
B) a refuzat să o îngrijească  
C) nu i-a dat mâncare

- 7** Cum a împărțit judecătorul banii oamenilor în povestea „Cinci pâini”?  
A) în mod egal  
B) doi lei și trei lei  
C) un leu și patru lei



- 3** Replica „Muiieți-s posmagii?” a omului leneș poate fi explicată prin zicala:  
A) „Lenea-i împărăteasă mare.”  
B) „Buturuga mică răstoarnă carul mare.”  
C) „Graba strică treaba.”

- 8** La sfatul mamei sale, fata de împărat din „Povestea Porcului”:  
A) a fugit de acasă  
B) a aruncat pielea animalului în foc  
C) i-a dat porcului să bea o licoare fermecată

- 4** În fragmentul „La cireșe”, mătușa Mărioara l-a alergat pe Nică prin cânepă până:  
A) a obosit  
B) s-a împiedicat  
C) a strigat-o Moș Vasile

- 9** Soacra cu trei nurori din povestea cu același nume:  
A) se amesteca în viața fiilor ei  
B) era ca o mamă pentru nurori  
C) trebuia toată ziua

- 5** Ce a făcut Nică cu pupăza imediat după ce a scos-o din scorbură?  
A) a dus-o la târg să o vândă  
B) a ascuns-o în cămară  
C) a legat-o cu o sfoară de picior, în podul casei

- 10** Harap-Alb ajunge sluga Spânului după ce:  
A) intră în Grădina Ursului  
B) coboară în fântână  
C) se rătăcește în Pădurea Cerbului



## Matematică

Parcul național este un teritoriu bine delimitat prin lege, unde se respectă anumite reguli impuse cu scopul de a proteja mediul natural de activitățile omului. El este mediul de viață al multor plante și animale.

<b>ARBORI</b>	<b>956</b>
<b>FLORI</b>	<b>1 367</b>
<b>MAMIFERE</b>	<b>182</b>
<b>PĂSĂRI</b>	<b>400</b>



**1** Numărul total al plantelor din Parcul național este:  
A) **2 323** B) **2 213** C) **2 223**

**2** Cu cât este mai mare numărul păsărilor față de numărul mamiferelor?  
A) **228** B) **218** C) **318**

**3** O familie de lupi este formată din **2** adulți și **4** pui. Câte familii pot forma **96** de lupi?  
A) **24** B) **16** C) **384**

**4** Mamiferele omnivore sunt cu **40** mai multe decât cele erbivore, iar cele carnivore sunt cu **30** mai multe decât cele omnivore. Câte mamifere erbivore sunt?  
A) **34** B) **72** C) **24**

**5** Un pădurar plantează **230** de puieti: **150** sunt fagi, iar restul stejari. Dacă stejarii vor fi plantați pe **5** rânduri, câți arbori vor fi pe un rând?  
A) **16** B) **14** C) **400**

**6** Un brad crește în **12** ani numai **2** metri în înălțime. Câți ani are un brad de **10** metri?  
A) **20** B) **6** C) **60**

**7** Un pui de castor roade cu poftă un buștean. Lemnul are formă de:  
A) cilindru B) sferă C) con




**8** O veveriță a adunat alune și de **2** ori mai multe ghinde, în total **84**. Câte ghinde a adunat ea?  
A) **56** B) **28** C) **41**

**9** Într-o poieniță, Sonia admiră câteva flori:  $\frac{2}{9}$  sunt brândușe,  $\frac{3}{9}$  sunt păpădii, iar restul, garofițe. Cea mai numeroasă floare este:  
A) păpădia B) garofița C) brândușa

**10** Matei pornește în drumeție la ora **8:15**. După două ore și jumătate ajunge în camping. La ce oră își montează cortul?  
A) **10:35** B) **10:15** C) **10:45**

# Științe

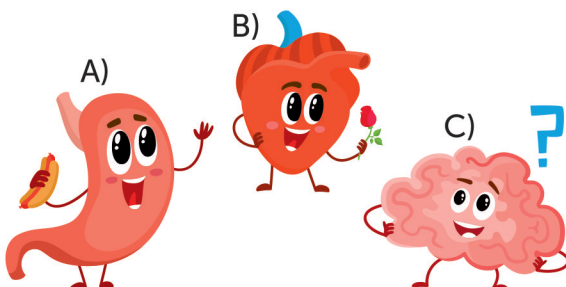


- 1** Cea mai mare suprafață a Terrei este acoperită de:  
A) clădiri  
B) apă  
C) păduri




- 2** Dunărea este:  
A) un râu cu apă sărată  
B) o apă stătătoare mare  
C) un fluviu cu apă dulce

- 3** Auzul, văzul, mirosul sunt coordonate de:



- 4** Descoperă corpul solid care nu se scufundă, arde ușor și nu este atras de un magnet.  
A) un buștean  
B) o statueta din fier  
C) o cărămidă

- 5** Acest animal nu se înmulțește prin ouă. L-ai descoperit?



- 6** Ce se va întâmpla cu becurile din circuitul electric de mai sus?  
A) se vor aprinde ambele becuri  
B) se va aprinde un singur bec  
C) nu se va aprinde niciun bec

- 7** Alege orașul în care apa se va evapora mai repede după ploaie:  
A) Brașov, 21 de grade  
B) Galați, 27 de grade  
C) Craiova, 24 de grade



- 8** Descoperă animalele care fac parte din aceeași grupă:  
A) vacă, elefant, pinguin  
B) delfin, știucă, păstrăv  
C) crocodil, șarpe, cameleon

- 9** Aceeași cărămidă este pusă pe cântar în cele două moduri. Ce va indica cântarul?



- A) Cântarul va arăta o greutate mai mare în situația 1.  
B) Cântarul va arăta o greutate mai mare în situația 2.  
C) Cântarul va arăta aceeași greutate.

- 10** Deșeurile care se descompun cel mai greu în natură sunt:  
A) obiectele din sticlă  
B) resturile alimentare  
C) ambalajele din hârtie

Concursul Național AMINTIRI din COPILĂRIE  
An școlar 2018-2019  
Etapa 3 - 17 mai 2019



## FORMULAR de EVALUARE

NUMELE

CLASA

CP  I  2  3  4  A  B  C  D  E  F  G  H

ȘCOALA

LOCALITATEA

## RĂSPUNSURI

### Limba română

	A	B	C
1	<input type="checkbox"/>	<input type="checkbox"/>	<input type="checkbox"/>
2	<input type="checkbox"/>	<input type="checkbox"/>	<input type="checkbox"/>
3	<input type="checkbox"/>	<input type="checkbox"/>	<input type="checkbox"/>
4	<input type="checkbox"/>	<input type="checkbox"/>	<input type="checkbox"/>
5	<input type="checkbox"/>	<input type="checkbox"/>	<input type="checkbox"/>
6	<input type="checkbox"/>	<input type="checkbox"/>	<input type="checkbox"/>
7	<input type="checkbox"/>	<input type="checkbox"/>	<input type="checkbox"/>
8	<input type="checkbox"/>	<input type="checkbox"/>	<input type="checkbox"/>
9	<input type="checkbox"/>	<input type="checkbox"/>	<input type="checkbox"/>
10	<input type="checkbox"/>	<input type="checkbox"/>	<input type="checkbox"/>

### Matematică

	A	B	C
1	<input type="checkbox"/>	<input type="checkbox"/>	<input type="checkbox"/>
2	<input type="checkbox"/>	<input type="checkbox"/>	<input type="checkbox"/>
3	<input type="checkbox"/>	<input type="checkbox"/>	<input type="checkbox"/>
4	<input type="checkbox"/>	<input type="checkbox"/>	<input type="checkbox"/>
5	<input type="checkbox"/>	<input type="checkbox"/>	<input type="checkbox"/>
6	<input type="checkbox"/>	<input type="checkbox"/>	<input type="checkbox"/>
7	<input type="checkbox"/>	<input type="checkbox"/>	<input type="checkbox"/>
8	<input type="checkbox"/>	<input type="checkbox"/>	<input type="checkbox"/>
9	<input type="checkbox"/>	<input type="checkbox"/>	<input type="checkbox"/>
10	<input type="checkbox"/>	<input type="checkbox"/>	<input type="checkbox"/>

### Științe

	A	B	C
1	<input type="checkbox"/>	<input type="checkbox"/>	<input type="checkbox"/>
2	<input type="checkbox"/>	<input type="checkbox"/>	<input type="checkbox"/>
3	<input type="checkbox"/>	<input type="checkbox"/>	<input type="checkbox"/>
4	<input type="checkbox"/>	<input type="checkbox"/>	<input type="checkbox"/>
5	<input type="checkbox"/>	<input type="checkbox"/>	<input type="checkbox"/>
6	<input type="checkbox"/>	<input type="checkbox"/>	<input type="checkbox"/>
7	<input type="checkbox"/>	<input type="checkbox"/>	<input type="checkbox"/>
8	<input type="checkbox"/>	<input type="checkbox"/>	<input type="checkbox"/>
9	<input type="checkbox"/>	<input type="checkbox"/>	<input type="checkbox"/>
10	<input type="checkbox"/>	<input type="checkbox"/>	<input type="checkbox"/>

Concursul Național AMINTIRI din COPILĂRIE  
An școlar 2018-2019  
Etapa 3 - 17 mai 2019

CLASA  CP  1  2  3  4

## RĂSPUNSURI

Limba română			
	A	B	C
1	<input type="checkbox"/>	<input type="checkbox"/>	<input checked="" type="checkbox"/>
2	<input checked="" type="checkbox"/>	<input type="checkbox"/>	<input type="checkbox"/>
3	<input checked="" type="checkbox"/>	<input type="checkbox"/>	<input type="checkbox"/>
4	<input type="checkbox"/>	<input checked="" type="checkbox"/>	<input type="checkbox"/>
5	<input type="checkbox"/>	<input type="checkbox"/>	<input checked="" type="checkbox"/>
6	<input type="checkbox"/>	<input checked="" type="checkbox"/>	<input type="checkbox"/>
7	<input type="checkbox"/>	<input type="checkbox"/>	<input checked="" type="checkbox"/>
8	<input type="checkbox"/>	<input checked="" type="checkbox"/>	<input type="checkbox"/>
9	<input checked="" type="checkbox"/>	<input type="checkbox"/>	<input type="checkbox"/>
10	<input type="checkbox"/>	<input checked="" type="checkbox"/>	<input type="checkbox"/>

Matematică			
	A	B	C
1	<input checked="" type="checkbox"/>	<input type="checkbox"/>	<input type="checkbox"/>
2	<input type="checkbox"/>	<input checked="" type="checkbox"/>	<input type="checkbox"/>
3	<input type="checkbox"/>	<input checked="" type="checkbox"/>	<input type="checkbox"/>
4	<input type="checkbox"/>	<input type="checkbox"/>	<input checked="" type="checkbox"/>
5	<input checked="" type="checkbox"/>	<input type="checkbox"/>	<input type="checkbox"/>
6	<input type="checkbox"/>	<input type="checkbox"/>	<input checked="" type="checkbox"/>
7	<input checked="" type="checkbox"/>	<input type="checkbox"/>	<input type="checkbox"/>
8	<input checked="" type="checkbox"/>	<input type="checkbox"/>	<input type="checkbox"/>
9	<input type="checkbox"/>	<input checked="" type="checkbox"/>	<input type="checkbox"/>
10	<input type="checkbox"/>	<input type="checkbox"/>	<input checked="" type="checkbox"/>

Științe			
	A	B	C
1	<input type="checkbox"/>	<input checked="" type="checkbox"/>	<input type="checkbox"/>
2	<input type="checkbox"/>	<input type="checkbox"/>	<input checked="" type="checkbox"/>
3	<input type="checkbox"/>	<input type="checkbox"/>	<input checked="" type="checkbox"/>
4	<input checked="" type="checkbox"/>	<input type="checkbox"/>	<input type="checkbox"/>
5	<input type="checkbox"/>	<input checked="" type="checkbox"/>	<input type="checkbox"/>
6	<input checked="" type="checkbox"/>	<input type="checkbox"/>	<input type="checkbox"/>
7	<input type="checkbox"/>	<input checked="" type="checkbox"/>	<input type="checkbox"/>
8	<input type="checkbox"/>	<input type="checkbox"/>	<input checked="" type="checkbox"/>
9	<input type="checkbox"/>	<input type="checkbox"/>	<input checked="" type="checkbox"/>
10	<input checked="" type="checkbox"/>	<input type="checkbox"/>	<input type="checkbox"/>

### MODUL de CALCUL al PUNCTAJULUI

PUNCTAJ din OFICIU	40p
PUNCTAJ SUBIECTE	$30 \times 2p = 60p$
PUNCTAJ TOTAL	100p