

Limba română







- 1** Baba din povestea **"Punguța cu doi bani"** i-a cerut moșneagului:
A) niște galbeni
B) câteva vite
C) o salbă de aur
-
- 2** Când a ajuns la Sfânta Duminică, fiica moșului i-a spus că:
A) părinții au alungat-o de acasă
B) ar vrea găzduire
C) este sătulă de muncă
-
- 3** Omul din povestea **"Prostia omenească"** i-a spus celui care voia să urce vaca pe șură:
A) "Cu rușinea mori de foame."
B) "Greu la deal cu boii mici!"
C) "Nu fi scump la țărățe și ieftin la faină."
-
- 4** După ce a fost prins la furat de cireșe, Nică a mai făcut o pagubă în gospodăria mătușii Mărioara:
A) vița de vie
B) plantația de cânepă
C) grădina de zarzavaturi
-
- 5** La scădat, Nică fredona melodia:
A) "Auraș, păcuraș"
B) "Alunelul, alunelul"
C) "Țăranul e pe câmp"
-
- 6** La cântecul pupezei, mama l-a trezit pe Nică și l-a trimis:
A) la iarmaroc
B) la biserică
C) cu mâncare la prășitori
-
- 7** Când moșneagul a sosit acasă cu porcul, baba din **"Povestea porcului"**:
A) s-a speriat groaznic
B) a pregătit scaldătoarea
C) a început să plângă
-
- 8** Împăratul din **"Povestea porcului"** voia să-și mărite fata cu acela care va construi:
A) un palat de cristal
B) un pod din aur cu pietre scumpe
C) un pod din sticlă cu rubine
-
- 9** Pentru a fi pe placul babei din povestea **"Soacra cu trei nurori"**, o fată trebuia să fie:
A) harnică și ascultătoare
B) frumoasă și manierată
C) tânără și aprigă
-
- 10** Rămasă singură cu nurorile, soacra:
A) le trimitea la culcare
B) le pregătea bucate alese
C) le pune să muncească noaptea



Matematică

În săptămâna Școala Altfel, copiii din mai multe școli au participat la proiectul "Mănânc sănătos!", preparând cea mai mare salată de fructe, demnă de Cartea Recordurilor. Iată fructele pe care le-au folosit:

M		P		S		B	
	121 kg		88 kg		90 kg		100 kg

- 1** Câte kilograme de fructe au adus copiii împreună?
A) **299** kg
B) **309** kg
C) **399** kg

- 2** Alege fructele aranjate în ordinea descrescătoare a kilogramelor.
A) **MBSP** B) **MSBP** C) **PSBM**

- 3** Au fost aduse în număr impar al kilogramelor:
A) merele
B) strugurii
C) bananele

- 4** Știind că într-un kilogram de struguri intră 3 ciorchini, află câți ciorchini sunt în cele 90 kg.
A) **30** B) **93** C) **270**

- 5** O pătrime din portocale au fost folosite pentru a se face suc. Câte kg de portocale au mai rămas pentru salata de fructe?
A) **22** kg B) **66** kg C) **110** kg

- 6** 1/10 din greutatea bananelor a reprezentat coaja. Câte kg de miez au avut bananele?
A) **10** kg B) **90** kg C) **110** kg

- 7** Un kg de mere a costat 6 lei. Câți lei au costat toate merele?
A) **626** lei B) **127** lei C) **726** lei

- 8** Ce formă au portocalele?
A) sferă B) cilindru C) con

- 9** La ora 9:00 termometrul arăta 14 grade. Temperatura a crescut cu 2 grade în fiecare oră până la ora 16:00, apoi a scăzut cu un grad pe oră. Câte grade erau la ora 20:00?
A) **20** de grade
B) **26** de grade
C) **24** de grade



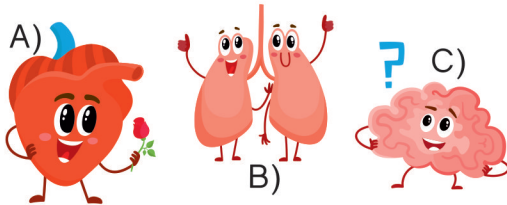
Științe



- 1** Un pește, o pasăre și un șarpe au în comun:
 A) aripile
 B) scheletul
 C) membrele

- 2** Are trei perechi de picioare:
 A) salamandra
 B) vipera
 C) greierele

- 3** Aerul pe care îl inspirăm ajunge în...



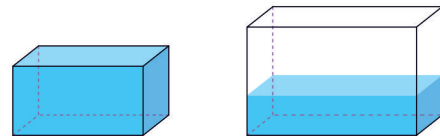
- 4** Când se simte amenințat, ariciul:
 A) se face un ghem țepos
 B) fuge foarte repede
 C) se ascunde în pământ

- 5** Deși nu are o blană groasă, morsa este protejată de frig cu ajutorul:
 A) mușchilor dezvoltăți
 B) colților ascuțiți
 C) stratului de grăsime



- 6** Sunt corpuri fără viață:
 A) norii de pe cer
 B) copacii din pădure
 C) amfibienii

- 7** Observă transformarea unui corp în cele două recipiente.



- Ce fel de corp este?
 A) lichid B) gazos C) solid

- 8** Un creion îți va cădea din mână pe podea, atras de...
 A) forța de frecare
 B) forța magnetică
 C) forța de gravitație



- 9** Ciclul zi-noapte apare datorită rotației _____ în jurul _____.
 A) Soarelui / Pământului
 B) Pământului / axei sale
 C) Lunii / Pământului

- 10** Plantele folosesc energia solară:
 A) pentru a-și prepara hrana
 B) pentru a alunga insectele
 C) pentru a răspândi semințele

Concursul Național AMINTIRI din COPILĂRIE

Etapa 3 - 21 mai 2018



FORMULAR de EVALUARE

NUMELE

CLASA

ȘCOALA

LOCALITATEA

RĂSPUNSURI

Limba română

	A	B	C
1	<input type="text"/>	<input type="text"/>	<input type="text"/>
2	<input type="text"/>	<input type="text"/>	<input type="text"/>
3	<input type="text"/>	<input type="text"/>	<input type="text"/>
4	<input type="text"/>	<input type="text"/>	<input type="text"/>
5	<input type="text"/>	<input type="text"/>	<input type="text"/>
6	<input type="text"/>	<input type="text"/>	<input type="text"/>
7	<input type="text"/>	<input type="text"/>	<input type="text"/>
8	<input type="text"/>	<input type="text"/>	<input type="text"/>
9	<input type="text"/>	<input type="text"/>	<input type="text"/>
10	<input type="text"/>	<input type="text"/>	<input type="text"/>

Matematică

	A	B	C
1	<input type="text"/>	<input type="text"/>	<input type="text"/>
2	<input type="text"/>	<input type="text"/>	<input type="text"/>
3	<input type="text"/>	<input type="text"/>	<input type="text"/>
4	<input type="text"/>	<input type="text"/>	<input type="text"/>
5	<input type="text"/>	<input type="text"/>	<input type="text"/>
6	<input type="text"/>	<input type="text"/>	<input type="text"/>
7	<input type="text"/>	<input type="text"/>	<input type="text"/>
8	<input type="text"/>	<input type="text"/>	<input type="text"/>
9	<input type="text"/>	<input type="text"/>	<input type="text"/>
10	<input type="text"/>	<input type="text"/>	<input type="text"/>

Științe

	A	B	C
1	<input type="text"/>	<input type="text"/>	<input type="text"/>
2	<input type="text"/>	<input type="text"/>	<input type="text"/>
3	<input type="text"/>	<input type="text"/>	<input type="text"/>
4	<input type="text"/>	<input type="text"/>	<input type="text"/>
5	<input type="text"/>	<input type="text"/>	<input type="text"/>
6	<input type="text"/>	<input type="text"/>	<input type="text"/>
7	<input type="text"/>	<input type="text"/>	<input type="text"/>
8	<input type="text"/>	<input type="text"/>	<input type="text"/>
9	<input type="text"/>	<input type="text"/>	<input type="text"/>
10	<input type="text"/>	<input type="text"/>	<input type="text"/>

Concursul Național AMINTIRI din COPILĂRIE

Etapa 3 - 21 mai 2018

CLASA CP 1 2 3 4

RĂSPUNSURI

Limba română			
	A	B	C
1	<input checked="" type="checkbox"/>	<input type="checkbox"/>	<input type="checkbox"/>
2	<input type="checkbox"/>	<input checked="" type="checkbox"/>	<input type="checkbox"/>
3	<input type="checkbox"/>	<input type="checkbox"/>	<input checked="" type="checkbox"/>
4	<input type="checkbox"/>	<input checked="" type="checkbox"/>	<input type="checkbox"/>
5	<input checked="" type="checkbox"/>	<input type="checkbox"/>	<input type="checkbox"/>
6	<input type="checkbox"/>	<input type="checkbox"/>	<input checked="" type="checkbox"/>
7	<input type="checkbox"/>	<input checked="" type="checkbox"/>	<input type="checkbox"/>
8	<input type="checkbox"/>	<input checked="" type="checkbox"/>	<input type="checkbox"/>
9	<input checked="" type="checkbox"/>	<input type="checkbox"/>	<input type="checkbox"/>
10	<input type="checkbox"/>	<input type="checkbox"/>	<input checked="" type="checkbox"/>

Matematică			
	A	B	C
1	<input type="checkbox"/>	<input type="checkbox"/>	<input checked="" type="checkbox"/>
2	<input checked="" type="checkbox"/>	<input type="checkbox"/>	<input type="checkbox"/>
3	<input checked="" type="checkbox"/>	<input type="checkbox"/>	<input type="checkbox"/>
4	<input type="checkbox"/>	<input type="checkbox"/>	<input checked="" type="checkbox"/>
5	<input type="checkbox"/>	<input checked="" type="checkbox"/>	<input type="checkbox"/>
6	<input type="checkbox"/>	<input checked="" type="checkbox"/>	<input type="checkbox"/>
7	<input type="checkbox"/>	<input type="checkbox"/>	<input checked="" type="checkbox"/>
8	<input checked="" type="checkbox"/>	<input type="checkbox"/>	<input type="checkbox"/>
9	<input type="checkbox"/>	<input type="checkbox"/>	<input checked="" type="checkbox"/>
10	<input type="checkbox"/>	<input checked="" type="checkbox"/>	<input type="checkbox"/>

Științe			
	A	B	C
1	<input type="checkbox"/>	<input checked="" type="checkbox"/>	<input type="checkbox"/>
2	<input type="checkbox"/>	<input type="checkbox"/>	<input checked="" type="checkbox"/>
3	<input type="checkbox"/>	<input checked="" type="checkbox"/>	<input type="checkbox"/>
4	<input checked="" type="checkbox"/>	<input type="checkbox"/>	<input type="checkbox"/>
5	<input type="checkbox"/>	<input type="checkbox"/>	<input checked="" type="checkbox"/>
6	<input checked="" type="checkbox"/>	<input type="checkbox"/>	<input type="checkbox"/>
7	<input checked="" type="checkbox"/>	<input type="checkbox"/>	<input type="checkbox"/>
8	<input type="checkbox"/>	<input type="checkbox"/>	<input checked="" type="checkbox"/>
9	<input type="checkbox"/>	<input checked="" type="checkbox"/>	<input type="checkbox"/>
10	<input checked="" type="checkbox"/>	<input type="checkbox"/>	<input type="checkbox"/>

MODUL de CALCUL al PUNCTAJULUI

PUNCTAJ din OFICIU	40p
PUNCTAJ SUBIECTE	$30 \times 2p = 60p$
PUNCTAJ TOTAL	100p